

# SECONDARY SCHOOL IMPROVEMENT PROGRAMME (SSIP) 2016

AFRIKAANSE WEERGAWE



**GAUTENG PROVINCE**  
EDUCATION  
REPUBLIC OF SOUTH AFRICA

**GRAAD 12**

**JUNIE/JULIE VAKANSIE TOETS**

**VAK: GEOGRAFIE**

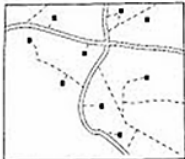
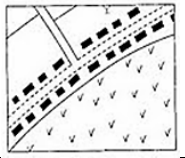

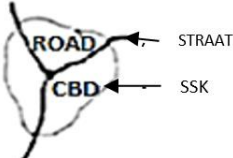
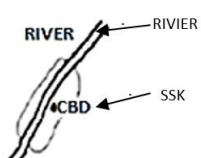
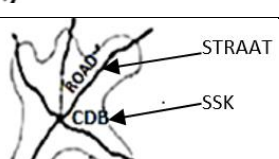


**TYDSDUUR: 40 Minute**

**TOTAAL: 60**

**(BLADSY 1 of 7)**

**SESSIE NR 10 & 11: NEDERSETTINGSGEOGRAFIE****TOTAAL: 30 PUNTE****20 Minute****VRAAG 1: 8 Marks****5 Minutes****GDE REKORD 2014**

1. Kies 'n beskrywing in **KOLOM B** wat pas by die diagram in **KOLOM A**. Skryf slegs die letter (A – H) langs die vraagnommer (3.1.1 – 3.1.8) in jou antwoordstel neer. Bv. 1.9 - j.

	<b>COLUMN A</b>	<b>KOLOM B</b>
1.1		A. <b>Liniêre/lintontwikkeling</b> Huse of geboue wat in 'n lyn langs 'n pad, smal vallei, kanaal, rivier of rif geplaas is.
1.2		B. <b>Stervormige stedelike nedersetting</b>
1.3		C. <b>Gekernde landelike nedersetting</b> Huse en geboue wat naby mekaar voorkom
1.4		D. <b>Liniêrvormige stedelike nedersetting</b>
1.5		E. <b>T-vormige stedelike nedersetting</b>
1.6		F. <b>Verspreide landelike nedersetting</b> Huse en geboue wat geïsoleerd en ver van mekaar voorkom
1.7		G. <b>Stedelike profiel</b> Verwys na die sy-aansig/kantaansig van die stad.
1.8		H. <b>Onbeplan/onreëlmatig</b> Ordelose strate in 'n stedelike gebied sonder enige definitiewe plan of patroon

**VRAAG 2: 8 PUNTE 5 MINUTE****GDE REKORD 2014**

Kies 'n beskrywing uit **KOLOM B** wat by die term/konsep in **KOLOM A** pas. Skryf slegs die letter (A – H) langs die vraagnommer (2.1 – 2.8) in jou antwoordboek neer, bv. 2.9 J.

<b>KOLOM A</b>	<b>KOLOM B</b>
2.1 Verstedeliking	A Stedelike nedersettings wat ontstaan het a.g.v. handel en vervoer.
2.2 Stedelike uitbreiding	B Die beweging van mense weg van die stad na die landelike gebiede.
2.3 Vlak van verstedeliking	C Die proses waarin 'n toenemende persentasie van die land se bevolking in 'n stedelike gebied gekonsentreer is.
2.4 Tempo van verstedeliking	D Die persentasie van 'n land se totale bevolking wat in 'n stedelike gebied woon.
2.5 Teenverstedeliking	E Waar een tipe vervoer in 'n ander oorgaan.
2.6 Vragverbrekingpunt	F 'n Stedelike nedersetting wat ontstaan a.g.v. 'n natuurlike opening in 'n bergreeks.
2.7 Handel en vervoernedersetting	G Die tempo van verstedeliking.
2.8 Deurgangsdorp/ Poortdorp	H Die uitbreiding van die beboudegebied.

**VRAAG 3: 7 PUNTE 5 MINUTE****GDE REKORD 2015**

3. Gebruik DIE FIGUUR hieronder om die volgende vrae aangaande landelik-stedelike migrasie te beantwoord.

**FIGUUR LANDELIK-STEDELIKE MIGRASIE**



**HOPE = HOOP**

- 3.1 Gee EEN rede waarom die mense “weggaan” in die strokiesprent.
- 3.2 Hoe sal jy hierdie mense ekonomies klassifiseer?
- 3.3 Is die afname in werksgeleenthede in landelike gebiede ‘n stoot- of ‘n trekfaktor?
- 3.4 Is die beskikbaarheid van verblyf in stede ‘n stoot of trekfaktor?
- 3.5 Sal die ontvolking van landelike gebiede ‘n verhoging of verlaging in die produksie van landbouprodukte in landelike gebiede tot gevolg hê?
- 3.6 Landelik-stedelike migrasie veroorsaak ‘n verlaging in die bevolking van landelike gebiede. Verskaf ‘n geskikte konsep om die stelling te verduidelik.
- 3.7 Sal die gemiddelde ouderdom in landelike gebiede toeneem of afneem as mense stad toe verhuis? (7 x 1) (7)

**VRAAG 4                      7 PUNTE              5 MINUTE                      GDE REKORD 2015**

- 4.1 Moontlike opsies word voorsien as antwoorde vir die volgende stellings. Kies die korrekte antwoord en skryf slegs die korrekte LETTER langs die vraagnommer neer. Byvoorbeeld 1.1.9 A.
- 4.1 Die rangskikking of ordeningstelsel van stedelike nedersettings, word genoem stedelike \_\_\_\_\_.
- A morfologie.  
B hiërargie.  
C profiel.  
D groei.
- 4.2 \_\_\_\_\_ is die vormlose uitbreiding van stede na die omliggende gebiede.
- A stadspreiding  
B groei  
C verval  
D uitbreiding
- 4.3 Voorbeelde van hoë orde funksies en dienste is: \_\_\_\_\_.
- A bakkerye en droogskoonmakers.  
B gespesialiseerde hospitale en hooggeregshowe .  
C bakkerye en hooggeregshowe  
D gespesialiseerde hospitale en droogskoonmakers.

- 4.4 \_\_\_\_\_ en \_\_\_\_\_ is versoenbare grondgebruiksone
- A Hoë inkomste woonbuurte ; swaar nywerhede
  - B Streeksbesigheidsentrums ; swaar nywerhede
  - C Swaar nywerhede ; kommersiële besigheidsdistrik
  - D Hoë inkomste woonbuurte ; groengordel gebiede
- 4.5 'n \_\_\_\_\_ straatpatroon lei tot kongestie tydens spitsverkeer.
- A Radiaal konsentriese / spinnerak
  - B Beplande onreëlmatige
  - C Ruit / rooster
  - D Dendritiese
- 4.6 Lughawens word meestal in die \_\_\_\_\_ van stedelike gebiede aangetref.
- A landelik-stedelike oorgangstone.
  - B vervalstone.
  - C groengordel.
  - D lae inkomste residensiële area.
- 4.7 Die grondgebruiksone met die hoogste grondwaarde is die\_\_\_\_\_.
- A hoë inkomste residensiële area.
  - B landelik-stedelike oorgangstone.
  - C groengordelgebied.
  - D kommersiële besigheidsdistrik
- (7x1)(7)

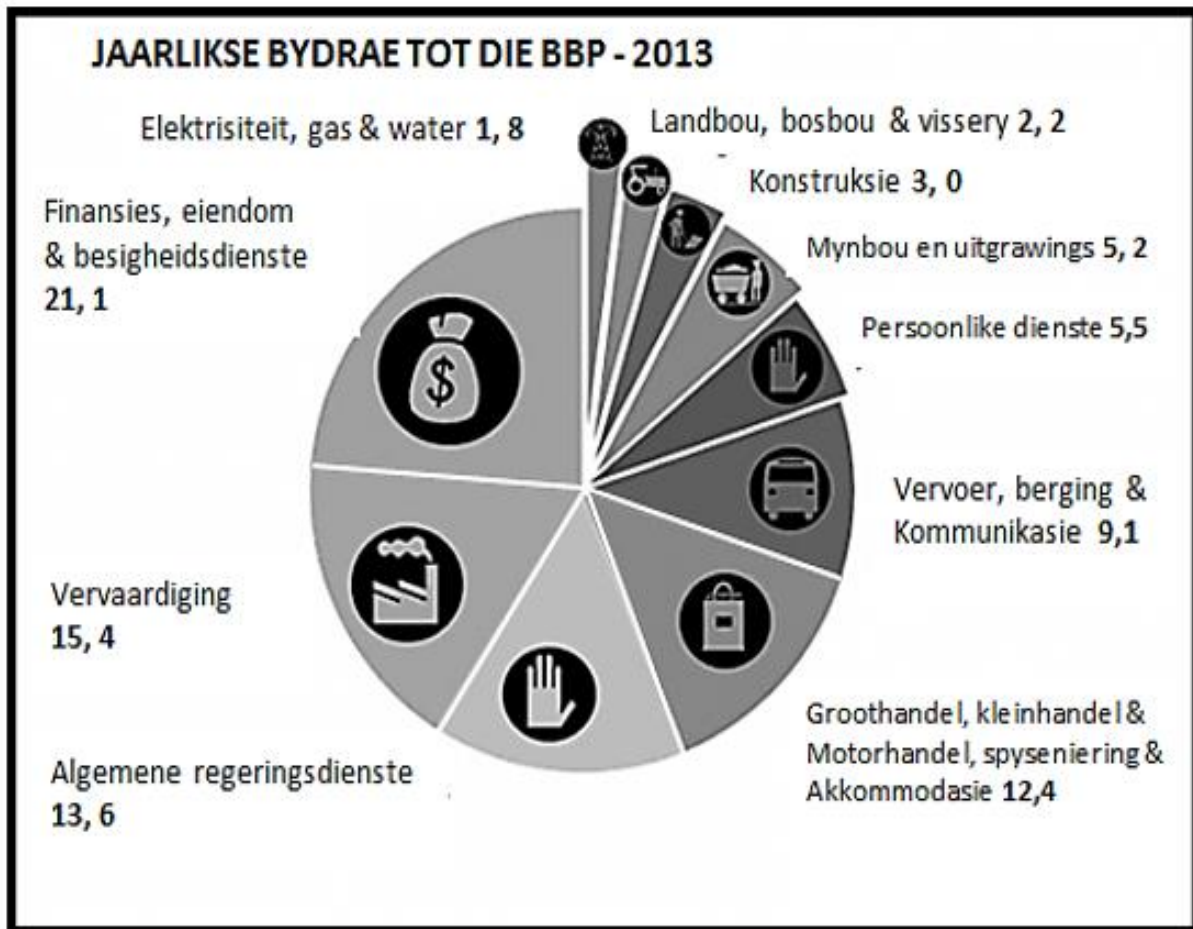
**SESSIE NR 12: EKONOMIESE GEOGRAFIE – PRIMÊRE AKTIWITEITE**

**VRAAG 1: 8 MARKS 5 MINUTES GDE PRELIM 2014**

Verwys na DIE **FIGUUR** op die volgende baldsy, 'n sirkelgrafiek wat die jaarlikse bydrae tot die BBP van Suid-Afrika toon. Skryf die nommers 1.1 tot 1.7 neer en langsaan slegs die korrekte antwoord..

- 1.1 Identify the economic sector which is responsible for the highest contribution to the GDP.
- 1.2 Describe the type of activities provided by this sector (referred to VRAAG 3.2.1).
- 1.3 Calculate the total contribution of the primary sector to the GDP.
- 1.4 Identify which activity in the primary sector contributes the highest to the GDP.
- 1.5 Which economic sector does the activity of manufacturing belong to?
- 1.6 Which secondary activity on the pie chart provides the most job opportunities?
- 1.7 What does the acronym GDP stand for? (7 x 1) (7)

## FIGUUR



Bron: <http://www.beta2.statssa.gov.za/awp>

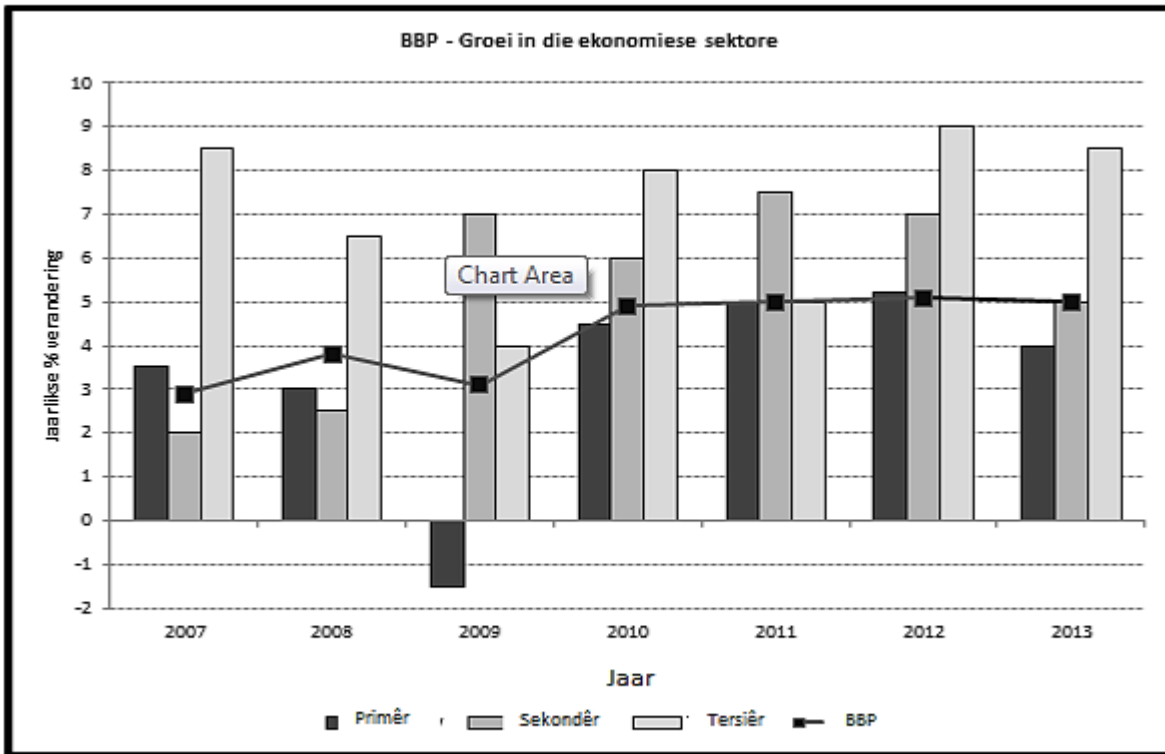
**VRAAG 2: 7 MARKS 5 MINUTES GDE PRELIM 2014**

Verwys na die **FIGUUR** op die volgende bladsy, wat die groei van die BBP in die ekonomiese sektore aantoon

- 2.1 Which economic sector contributed the highest growth to the average GDP?
- 2.2 In which year did this sector make its highest contribution?
- 2.3 Which economic sector shows an unpredictable growth towards the GDP?
- 2.4 In which year did the primary sector make the lowest contribution to the GDP?
- 2.5 The primary economic sector showed a decline in 2013. Give a possible reason for this decline.
- 2.6 Calculate the average GDP growth from 2007 to 2013.
- 2.7 Name the economic activity which include research and development of intellectual activities.

(7 x 1)(7)

## FIGUUR



Bron: Skets – Eksaminator

### SESSIE 13: EKONOMIESE GEOGRAFIE – SEKONDÊRE EN TERSIÊRE AKTIWITEITE

**VRAAG 3: 5 MINUTE**

**7 PUNTE**

**GDE REKORD 2015**

3. Kies die korrekte konsep, vanuit die onderstaande lys, om die sin te voltooi. Skryf slegs die korrekte konsep langs die vraagnommer neem in jou antwoordboek bv. 3.9. binnelandse inkomste.

petrochemiese nywerheid, massaproduksie, by-produkte, gemeenskapsboerdery, oorbruggingsnywerhede, drempelbevolking, invloed sfeer, alomteenwoordige nywerhede

- 3.1 Voedselproduksie op grond wat besit word deur die groep wat daar woon, staan bekend as \_\_\_\_\_.
- 3.2 Sasol vervaardig goedere in die \_\_\_\_\_ van die sekondêre sektor.
- 3.3 \_\_\_\_\_ is addisionele produkte wat vervaardig word met die produksie van 'n ander produk.

- 3.4 Die minimum getal mense wat nodig is om 'n sakeonderneming te ondersteun \_\_\_\_\_.
- 3.5 Die grootskaalse vervaardiging van identiese produkte deur 'n meganiese proses staan bekend as \_\_\_\_\_.
- 3.6 Nywerhede wat altyd in enige groot stad voorkom, staan bekend as \_\_\_\_\_.
- 3.7 \_\_\_\_\_ is die gebied waaruit 'n sakeonderneming sy klante lok.  
(7x1)(7)

**VRAAG 4: PUNTE 5 MINUTE GDE REKORD 2015**

4. Kies die korrekte woord tussen hakies om elke stelling WAAR te maak. Skryf slegs die korrekte antwoord langs die betrokke vraagnommer in jou antwoordboek.
- 4.1 Wanneer 'n boer produkte vir die uitvoermark verbou, is hy/sy 'n (groot/klein) skaal boer.
- 4.2 'n Nywerheid wat feitlik enige plek kan voorkom en die ligging nie bepaal word deur die voorkoms van grondstowwe of arbeid nie, is 'n (ongebonde / oorbruggings) nywerheid.
- 4.3 Die (Suidwes-Kaap / PWV) is Suid- Afrika se enigste binnelandse nywerheidstreek.
- 4.4 (Globalisasie / Sentralisasie) is die digte konsentrasie van industrieë en mense in 'n sentrale gebied.
- 4.5 Wanneer die waarde van die uitvoere die waarde van die ingevoerde produk oorskrei, word daarna as 'n (positiewe / negatiewe) handelsbalans verwys.
- 4.6 Die waarde van alle goedere en dienste gelewer deur 'n land se permanente inwoners, word gemeet deur die (BNP/ BBP).
- 4.7 (ROI's / NOS'e) is industriële sones met infrastruktuur en dienste wat Suid-Afrika in staat stel om kompetierend te wees op die wêreldmarkte.
- 4.8 Vermindering van armoede, werkloosheid en ontwikkelings- aanmoediging is van die vernaamste oorwegings van die (HOP / GEAR) - ontwikkelingstrategie. (8 x 1) (8)